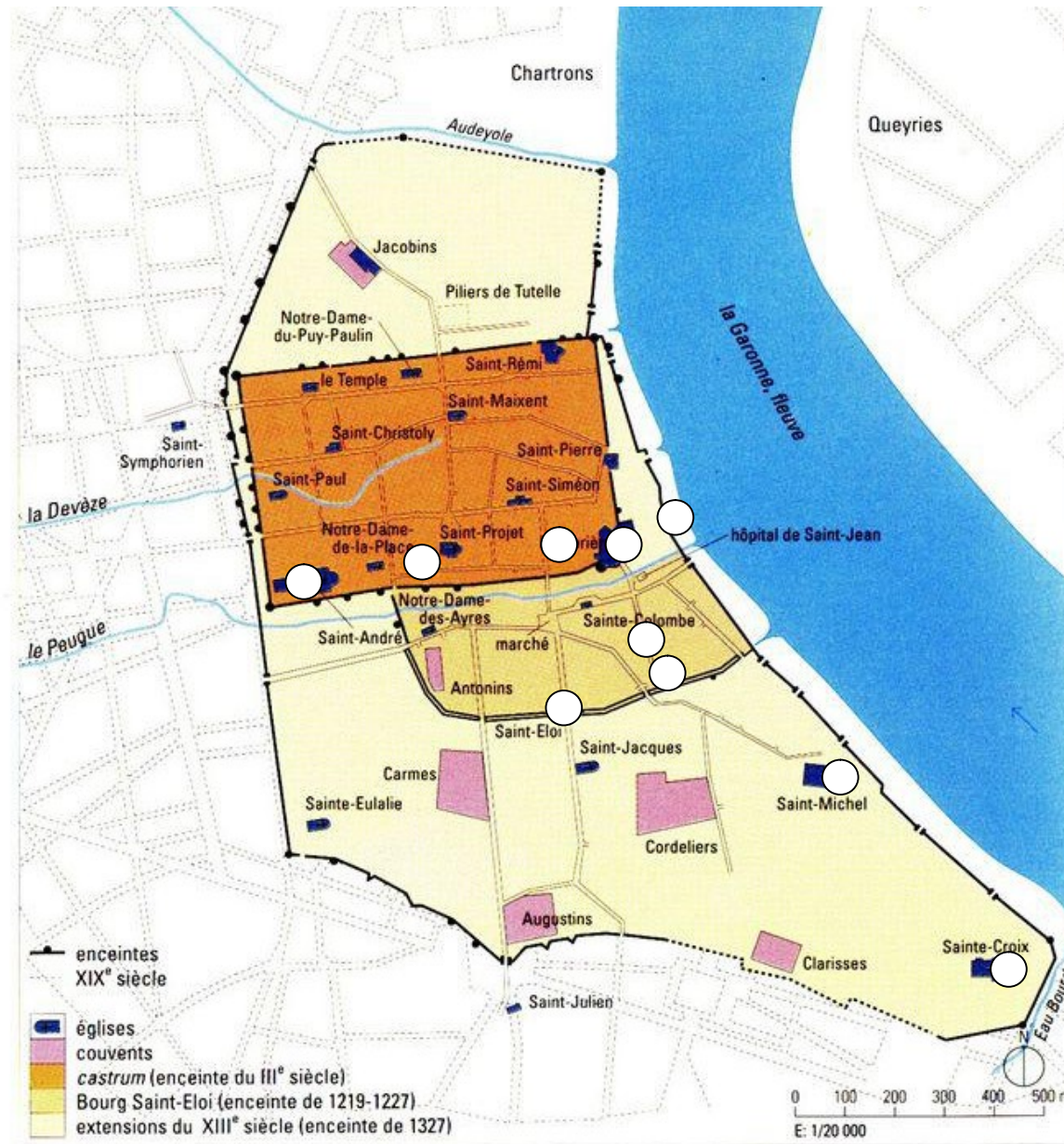


BORDEAUX AU MOYEN-ÂGE

Nom :

Classe :



Présentation de la ville au Moyen Age

a. Qu'est ce qui entoure la ville au Moyen Age ?.....

b. Comment rentre-t-on dans la ville ?

c. Sur la reconstitution ci-contre, mettre une croix à l'endroit où on se trouve actuellement.

d. NOMMER le lieu ou le bâtiment correspondant à chaque numéro.

1 :

2 :


3 :

4 :

5 :

6 :

7 :

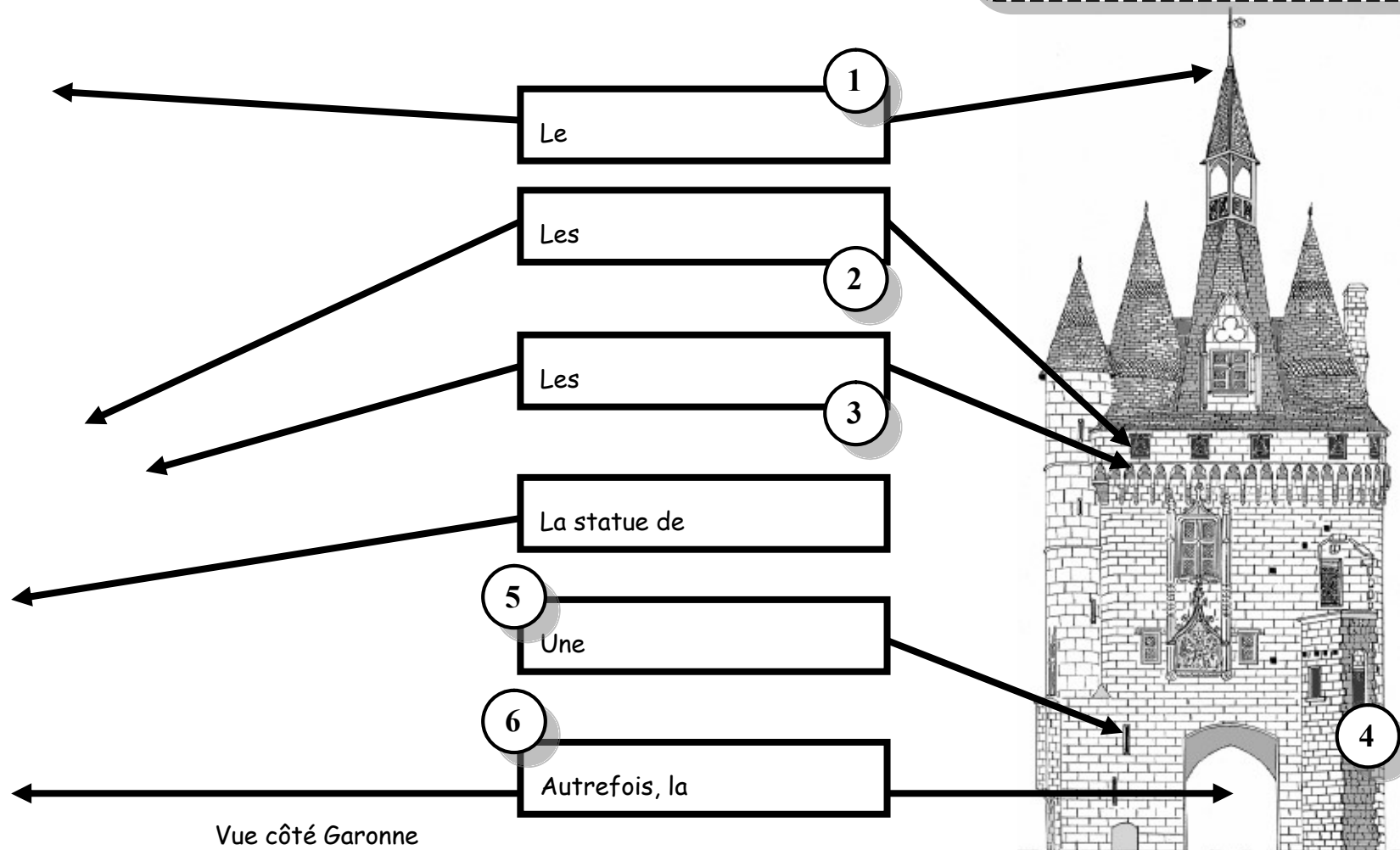


1 La Porte Cailhau

- Localise la Porte Cailhau sur le plan de la page 1 en écrivant le n°1.
- Légende les dessins en utilisant le vocabulaire : Archère (= meurtrière) - Charles VIII
Clocher - Créneaux – Grille / Herse - Mâchicoulis
- Entoure le heaume sur la façade côté ville.
- D'où vient le nom de Porte Cailhau ?

Match with the correct number :

- | | |
|---|--------------------------------------|
| <input type="radio"/> (an) arrowslit | <input type="radio"/> (a) bell tower |
| <input type="radio"/> (a) machicolation | <input type="radio"/> crenations |
| <input type="radio"/> (a) portcullis | <input type="radio"/> (a) rampart |



② Le Palais de l'Ombrière

- a. Localise le Palais de l'Ombrière sur le plan en écrivant le n°2.
b. Complète.

La célèbre a habité

le palais de l'Ombrière. Elle a épousé successivement deux rois :

..... et

- c. Indique la période durant laquelle l'Aquitaine fut anglaise.

Date de début :



Date de fin :

- d. Quel événement marque la fin de la présence anglaise à Bordeaux ?

- la Guerre de Cent Ans
- les Invasions barbares
- la Bataille de Castillon
- la Première guerre mondiale

- e. Sur le dessin n°1, entoure avec précision la Porte Cailhau.

1. Vue d'ensemble du Palais et de la Porte Cailhau



2. Vue rapprochée du Palais

3 La Maison de Marchand

Match with the correct number :

- a bootmaker a metalworker a stonemason a baker

- a. Localise la Maison de Marchand sur le plan en écrivant le n°3.
 b. Dessine les détails de la façade de maison qui ont été effacés.
 c. Relie chaque élément ● de la légende à une partie ☒ de la maison.



● Chambre de la bonne ou de l'apprenti

● L'atelier de fabrication, l'entrepôt, la boutique.

● Les appartements du marchand

• *Coche la bonne réponse.* Le nom "rue des bahutiers" trouve son origine dans...

- la construction d'un lycée au bout de la rue
- la présence de fabricants de meubles
- le passage fréquent de grosses charrettes



d. Relie chaque enseigne au métier concerné.



1. Tailleur de pierre

2. Ferronnier

3. Bottier

4. Boulanger



e. Relie chaque nom de rue au métier qu'on y pratiquait.

rue du Chai des Farines

rue des Argentiers

rue des Bahutiers

rue de la Rouselle

rue Bouquière

rue des Boucheries

rue des Cordeliers

rue des Bouviers

rue Maubec

rue Carpenteyre

rue de la Fusterie

Bijoutiers

Marchands de farine

Fabricants de meubles

Bouchers

Fabricants de cordes

Poissoniers

"Mauvaises langues"

Conducteurs de bœufs

Charpentiers de marine

Fabricants de barriques

④ La Maison de la rue du Loup

- Localise la Maison sur le plan en écrivant le n°4.
- Dessine les détails de la façade de maison qui ont été effacés.



- Nomme les 3 parties de la façade, et précise les matériaux employés.

un

en



le

en

et en

un

en

et en



- Complète en utilisant les mots en gras dans le texte.

.....

*Half-timbered houses are houses that have a wooden frame with a **thatched roof**. The **timbers** are arranged in a pattern with lots of diagonal pieces to act as braces. The strong wooden frame is then filled in with all sorts of other material. In some, "**wattle and daub**" is used between the timber.*



.....

5 La Cathédrale Saint-André



a. Localise la Cathédrale sur le plan en écrivant le n°5.

b. Complète.

La cathédrale St-André est de style,

elle est construite entre le et le siècle.

Les deux flèches culminent à mètres.

c. Coche la bonne réponse.

Le clocher (ou campanile) s'appelle :

- la tour Eiffel
- la tour Saint-André
- la tour Pey-Berland

e. Place les numéros dans les cercles sur les photos.

1 : Rosace / rose window




4 : Arc-boutant / flying buttress

2 : Clocher / bell tower

5 : Flèches / spire

3 : Tympan / tympanum

6 : Croisée du transept / transept crossing




⑥ La Porte Saint-Eloi

a. Localise la Porte Saint-Eloi sur le plan en écrivant le n°6.

b. La Porte Saint-Eloi était...

- un clocher
- une tour du rempart médiéval
- un beffroi



c. Nommer les bâtiments ou lieux correspondants aux numéros suivants :

1 :

2 :

3 :

Au Moyen Age, Bordeaux appartenait à la famille des Plantagenêts, soit à l'Angleterre. Le roi Jean sans Terre arriva à Bordeaux en 1199, il confirma par charte toutes les libertés et coutumes concédées par sa mère Aliénor d'Aquitaine.

L'article premier stipule que Bordeaux a un maire (...) il reste en charge pendant un an. Il est élu par les jurats (...). Il touche une indemnité annuelle de 1000 sous bordelais (...).

Le collège des jurats est composé de 50 membres élus pour une année, dont le premier acte doit être de jurer fidélité au roi. Le maire et les jurats constituent la Jurade qui gouverne la ville. (...)

Maire et jurats commandent à 300 bourgeois chargés du maintien de la paix. Ils règlent en commun les affaires de la ville ; leurs délibérations sont secrètes (...).

http://www.maires90.asso.fr/ADMF/le_maire_au_fil_du_temps/De_la_designation_des_maires_a_1789/communes/bordeaux.htm

d. Souligne en bleu le nom de la famille de grands seigneurs à qui appartenait la ville de Bordeaux au Moyen Age (avant 1453).

e. Entoure en bleu le nom du texte qui accorde à la ville le droit de se gouverner elle-même et des libertés.

f. Souligne en rouge le nom des personnes qui dirigent la ville.

g. Souligne en noir le nom des personnes chargées du maintien de la paix.

g. Quel est le nom de la rue qui passe par la Porte Saint-Eloi ?

.....

h. Qu'indiquent les coquilles installées dans les rues de Bordeaux ?

- les lieux de pêche
- les restaurants de poisson
- les poissonneries
- le chemin des pèlerins



i. Cherche le blason de la ville sur la porte et relie chaque élément ci-dessous au blason.

le léopard des rois anglais

les fleurs de lys des rois français

la Porte Saint-Eloi

la Garonne

le croissant de lune du port



7 L'impasse de la rue Neuve

- a. Localise la Maison de Marchand sur le plan en écrivant le n°7.
- b. Quelle est la particularité de cette maison ? Datez sa construction.

.....

.....

- c. Barre des réponses fausses. Pour avoir moins froid dans les maisons...

On dort à plusieurs dans le même lit

On ne baisse pas le chauffage

On utilise la cheminée

On installe des rideaux épais aux fenêtres

On allume les poêles à charbon

On construit les appartements au-dessus des écuries

8 La rue du Muguet

- a. Comment était le sol des rues médiévales ?

Barre les réponses fausses.

Des pavés

De la terre battue

Du goudron

Du béton

- b. Entoure les bonnes réponses. Au Moyen-Âge, il y avait dans les rues...

Des poules

Des automobiles

Beaucoup de lumière

Des ordures

Beaucoup d'espace

Des lampadaires




9 La basilique Saint-Michel

- a. Localise la Basilique Saint-Michel sur le plan en écrivant le n°9.
b. Une basilique est...
 L'église de l'évêque
 Une grande église
 Un monastère
c. Compte les coquilles Saint-Jacques qui entourent la porte Nord.

.....


- d. Sur le dessin, indique la hauteur de la Flèche Saint-Michel.



La flèche mesure
..... mètres

- e. Donne un titre à cette statue, puis complète la légende.

Titre :



10 L'église Sainte-Croix

a. Localise l'église Sainte-Croix sur le plan en écrivant le n°10.

b. Complète.

L'église Sainte-Croix est de style

c. De quel signe du zodiaque es-tu ?

d. Entoure ton signe sur la photo.

